



Imię:

Matematyka

Nazwisko:

Klasa II - jesień 2021

Uwaga, odpowiedzi może być kilka!

1. Ile jest osób w 6 parach?

- 10 3 12 18

2. Ile wynosi długość drogi lisa? Zapisz obliczenia i zaznacz prawidłową odpowiedź.



Obliczenia:

- 17cm 20 cm 19 cm 21cm

3. Wskaż miesiąc, który ma 31 dni.

- lipiec kwiecień grudzień luty

4. Która data jest najwcześniejsza?

- 25.08.2021 r. 11 listopada 2021 r.
 29 VII 2021 r. 25 IX 2021 r.

5. Wskaż liczby parzyste:

- 15 19 12 25
 28 16 19

6. Liczba 9 jest o 6 mniejsza od:

- 12 3 15 14

7. Spośród podanych liczb wybierz liczbę:

- największą 345 17 276 7
najmniejszą 13 456 160 11

8. Marysia miała 5 pudełek. Do każdego włożyła po 10 pchełek. Ile razem pchełek Marysia włożyła do pudełek?

- 15 10 50 100

9. Zaznacz błędne obliczenia:

- $16 + 8 + 25 = 49$ $26 + 32 + 4 + 8 = 80$
 $45 + 7 - 16 = 30$ $73 - 16 + 9 = 66$

10. Przyjrzyj się uważnie liczbom. Wstaw odpowiedni znak: >, < lub = bez wykonywania obliczeń.

- $40 - 9 \dots 20 - 6$ < = >
 $65 - 20 \dots 84 - 14$ > = <
 $75 - 40 \dots 60 - 25$ = < >




11. Na górze było piętnaścioro dzieci. Sześcioro dzieci zjechało z góry na sankach. Ile dzieci zostało na górze?

- 7 8 10 9

12. Oblicz, ile centymetrów brakuje do metra.

- 55 cm 35 cm 25 cm 45 cm 60 cm
40 cm 60 cm 30 cm 50 cm 70 cm
95 cm 25 cm 65 cm 15 cm 5 cm



13. Liczba 93 zapisana słownie to:

- osiemdziesiąt trzy sześćdziesiąt trzy pięćdziesiąt dwa dziewięćdziesiąt trzy





14. Który wynik jest błędny? Wskaż go.

- $86 - 47 = 39$ $95 - 17 = 68$
 $55 - 19 = 36$ $38 + 15 = 52$

15. Dzieci zjadły 12 pomarańczy. Troje dzieci zjadło po 3 pomarańcze, a pozostałe po jednej. Ile dzieci jadło pomarańcze?

- 6 4 7 5

16. Jakie liczby zastąpił  ?

- $9 + 12 =$  23 20 19 21
 $7 + 8 =$  16 15 18 17
 $25 - 16 =$  16 15 9 17
 $24 : 6 =$  4 6 3 8



17. Sławek otworzył książkę i zauważył, że gdy doda numery sąsiadujących stron, to otrzyma liczbę 27. Na których stronach Sławek otworzył książkę?

- 13 i 14 14 i 15 13 i 15 16 i 15

18. Babcia zapłaciła 50 zł za wazonik na kwiaty i 5 zł za serwetkę. Ile złotych babcia wydała na te zakupy?

- 45 55 65 75

19. Jaka liczba powiększona o 16 daje liczbę 49?

- 32 33 64 65

20. Wskaż poprawny zapis.

- cztery to więcej niż sześć
 pięć to mniej niż dziewięć
 siedem to tyle samo co siedem
 dziewięć to więcej niż osiem

21. Wskaż nazwy miesięcy czwartego kwartału:

- lipiec, sierpień, wrzesień
 kwiecień, maj, czerwiec
 styczeń, luty, marzec
 październik, listopad, grudzień



22. Jakie liczby mogły zostać zastąpione znakiem zapytania? $18 < ?$

- 15 19 8 20

23. Mama upiekła 36 rogalików. Dzieci zjadły 9 rogalików. Ile rogalików zostało?

- 25 28 27 26

24. Wybierz poprawne równania:

- $6 + 5 = 5 + 6$ $6 : 5 = 5 : 6$
 $6 - 5 = 5 - 6$ $6 \cdot 5 = 5 \cdot 6$

25. W piekarni na 6 tacach było po 4 rogaliki. Klienci kupili 15 rogalików. Ile rogalików zostało?

- 8 9 7 2

26. Oblicz i wskaż prawidłowy wynik.

- $XI - VII = \dots\dots\dots$ V VI IX IV
 $IX - IV = \dots\dots\dots$ VIII V IV X
 $XIII - VII = \dots\dots\dots$ IV III VI VII

27. Patryk postawił 3 kroki do przodu, 1 krok do tyłu, 3 kroki do przodu, 1 krok do tyłu, 3 kroki do przodu, 1 krok do tyłu. Zatrzymał się na kafelku z numerem:

START

| | | | | | | | | | |
|---|---|---|---|---|---|---|---|---|----|
| 1 | 2 | 3 | 4 | 5 | 6 | 7 | 8 | 9 | 10 |
|---|---|---|---|---|---|---|---|---|----|

8 9 6 7